

Алекс
8

ВСЕРОССИЙСКАЯ ОЛИМПИАДА ШКОЛЬНИКОВ
ПО ГЕОГРАФИИ
ШКОЛЬНЫЙ ЭТАП. 8 КЛАСС

Задание 1

1.1. Пользуясь знаниями по географии, полученными в предыдущие годы, а также картами атласа, найдите ошибочный элемент в каждом логическом ряду. Обоснуйте своё исключение. Приведите название ещё одного объекта для продолжения логического ряда. Учтите, что все географические объекты должны характеризовать особенности географии. Ответы запишите в таблицу.

Пример: Приволжская – Прикаспийская – Среднерусская – Смоленско-Московская – Валдайская.

Ошибка в логическом ряду. Прикаспийская. (3 балла)

Обоснование исключения. Это низменность, а **ВСЕ остальные объекты** – это возвышенности на территории России. **(3 балла)**. Если Вы ответ дадите неполным, например, укажете, что это низменность, то жюри оценит Вас только **1 баллом**, т.к. остаётся непонятным, чем являются остальные объекты и есть ли между ними общий признак.

Ваш пример для продолжения логического ряда. Ваш ответ должен включать любую возвышенность России: Северные Увалы, Ставропольская возвышенность. Только тогда Вас оценят максимально высоко **(3 балла)**. Если Вы назовёте возвышенности за пределами России или другие положительные формы рельефа, например, плоскогорья, то Ваш ответ оценят в 0 баллов.

- 1) Зебра – окапи – жираф – гиена – носорог.
- 2) Пигмеи – персы – уйгуры – лао – хиндустанцы.
- 3) Д. Стэнли – Дж. Кук – В. Беринг – Ф. Магеллан – Х. Колумб.
- 4) Ледостав – ледоход – водопад – паводок – межень.
- 5) Мараньон – Луалаба – Тапажос – Риу-Негру – Токантинс.

118 из
200

Номер ряда	Ошибка в логическом ряду	Обоснование исключения	Ваш пример для продолжения логического ряда
1	кошары	он находится в совхозе и редко летит	Кингидру
2	пишес 3	живёт в Сарне 3	Урбелк -
3	стемил 3	Он не морем Водил	Врако-да Тошле 3
4	сезастав		
5			

125

1.2. Определённые Вами ошибки в логических рядах имеют непосредственное отношение к одной из стран. Запишите её название.






Страна _____

Задание 2

На международную конференцию по сохранению биологического разнообразия прибыли животные – представители разных природных зон, континентов и стран. Они наперебой рассказывали о местах своего обитания. Журналист перепутал все записи конференции, у него сохранились лишь фотографии участников, но он напрочь забыл, из каких стран и природных зон они прибыли. Помогите восстановить необходимые данные и распределите утверждения участников конференции.

Некоторые животные могут обитать в разных природных зонах, указать необходимо одну – согласно приведенным ниже утверждениям.

Андрей

Изображение участника конференции	Название животного	Природная зона	Страна	Номера утверждений
	Обуедам 2	Джунгли пунфура 2	Бразилия Бразилия 2	2 4 1, 2, 14, 20
	корини 2	Джунгли	Бразилия	5, 7, 13, 19
	олури зубра 2	Степь 2	США 2	2, 9, 12, 16, 45
	каши ка 2	Саванна 2	Венесуэла 2	1, 6, 15, 7, 7 4
	Элли страус 2	травяни ка крупная 2	Австралия 2	3 10 14, 18, 20

105

65

105

105

10

1. Я крупнейший в мире грызун, приехал из страны, названной в честь итальянского города.
2. Я ближайший родственник европейского зубра, но живу в стране, расположенной в другой части света.
3. Меня ошибочно называют страусом, хотя я отношусь к отряду казуарообразных, я прибыл из страны, занимающей целый континент.
4. Во время последнего оледенения я массово обитал по территории северных материков, но теперь обитаю лишь на Крайнем севере, я приехал из страны, где не являюсь аборигенным видом, но был привезён и прекрасно прижился на её территории.

3 465

Всемирного природного наследия ЮНЕСКО. Уникальный эндемичный вид островов привлёк внимание английского натуралиста и путешественника, который благодаря своим исследованиям сформулировал и разработал теорию происхождения видов. Визитной карточкой архипелага является тропический вид древних пресмыкающихся и нелетающая птица, большинство родственников которой предпочитают более холодные местообитания.

Несколько столетий территория страны была частью крупной колониальной системы, как и её страны-соседи. Коренное население страны очень сильно пострадало за годы длительной европейской колонизации. До прихода европейцев территория страны являлась частью большой империи, которая была разграблена знаменитым конкистадором. Современная столица страны построена на месте древнего поселения коренных народов данной территории.

страна	Эквадор	5
океан	Тихий	2
потухший вулкан	Уинибурасо	2
климатические пояса	жаркий экваториальный, субэкваториальный	2
одна из причин засухливости климата	жаркое море	2
архипелаг	Галапагосские	2
английский натуралист и путешественник	Чарльз Дарвин	2
древнее пресмыкающееся	Черепашка	1
нелетающая птица	Килбел	1
страна-колонизатор	Испания	2
страны-соседи	Перу	2
	Венесуэла	2
коренное население	Индейцы	2
древняя империя		
современная столица		
конкистадор		

4.2. Перед Вами изображения, пять из которых отражают характеристику рассматриваемой страны. Укажите номера объектов, не связанных с описанием данной страны. Что (или кто) на них изображено?